


Sudoku puzzle

Anote un número del 1 al 9 en cada casilla vacía, de modo que cada número aparezca una sola vez en cada fila horizontal, como también en cada columna vertical y en cada uno de los sectores remarcados.



Nivel avanzado

A

				1			8
	1	9		3		5	
3		8	9	4			
					9		
	9					5	
			3	6			
			9		8	7	4
8		2		1			3
							9
							6

B

3		8	7		9			5
					3		7	
6			2					4
								3
1		9	4	5		2		
9				6				
4	7		8	3		5		1
					1		5	
							2	

.....

Sudokón 6x6

Instrucciones en página 7.

3					
1					
5					
				4	
				1	
				2	

C

2		6	3		5			
			7	8				
8			2	4	7	3		
							5	
					6		3	
5				2		7		
	9						8	
6	4		5		3			
3							1	6



SUDOKU ISLAS

Anote un número del 1 al 9 en cada casilla vacía, de modo que ninguno se repita en una misma fila ni en una misma columna, como tampoco en un mismo cuadro remarcado de 3x3. Además, este sudoku incorpora una pista extra: los números dentro de los cuadros grisados de 3x3 no se repiten.



A

		9		1	6	5		
1		8				4	6	
6				5	8		9	
8	1	2						9
		4			1		8	6
					3		1	4
			3					1
7	9				5	6		
3			1	7		9		

B

Nivel avanzado

6	3							2
		2			1			
8				2	3			4
	7		3		2			
	6		7	5	8	3	2	
	5	3	1		9		8	
	8							6
5		6					4	8
	1			8		7		

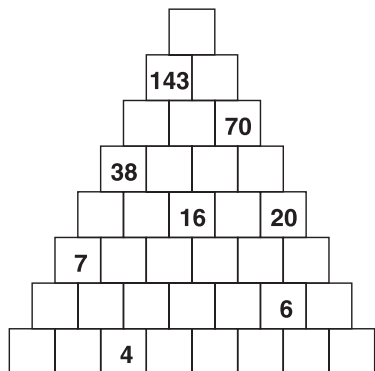
Encuentre un tutorial para resolver este tipo de juegos en: www.demente.com/comoresolver



C

Pirámide numérica

Instrucciones en página 6.



	2					1	4	
	1	4		6				3
8	7	3						
	8			9			2	7
		1		4			8	
	3			5	2	4		
			1				9	
	5	9	4				3	
1			7	3				6


Sudoku 16x16

Anote un número del 1 al 16 en cada casilla vacía, de modo que ninguno se repita en una misma fila ni en una misma columna, como tampoco en un mismo cuadro remarcado de 4x4.



Nivel avanzado

3				14					5	16	4	12	6		
	5	12			3	16	4					9			
7				6						8	13	2			3
4			11		13				15		10				5
1						6		2					8		
8	12			3	1	14		4	10	5		15	7		
14	10	15			12	7	11	6	8	13	3				
	11	5		4	15				7				13	12	
	6			11	8	13						16		3	
15		1		5		9	7				6	4			
16					6	10	3		2	11	5		9		
11	3			16			12	10			14		5		
	14	3		15		4	6	13			16	7	11		2
		11		8	9	3					12			13	
10		9	5	7				11				14			15
	15		13	12	2	11	10				7	5	3		9



Preguntas De Mente

- ¿Qué juego se puede comenzar utilizando la "defensa siciliana"?
 - El backgammon
 - El ajedrez
 - Las damas
- ¿Cuál es el estado numero 50 de Estados Unidos?
 - Puerto Rico
 - Alaska
 - Hawai
- Pegaso es un caballo con una característica especial, ¿cuál?
 - Tiene un cuerno
 - Tiene alas
 - Tiene escamas
- ¿Qué son Vega, Capella, Arturo y Proción?
 - Clases de mariposas
 - Estrellas
 - Amapolas